

PRUEBA PSICOTÉCNICA

**"CONVOCATORIA DE PERSONAL LABORAL
TEMPORAL OPERADOR DE SALA DE
CONTROL PARA SERVICIO DE
EMERGENCIAS DE PROTECCION CIVIL"**

Cada pregunta acertada suma un punto y cada pregunta errónea resta 0,33, si se queda en blanco ni suma ni resta. Tiempo: 45 min.

RAZONAMIENTO VERBAL

- 1. ¿Cuál de las siguientes palabras no encaja con las restantes?**
 - a. León
 - b. Guepardo
 - c. Tigre
 - d. Puma
 - e. Lobo
 - f. Leopardo

- 2. Soy un hombre. Si el hijo de Juan es el padre de mi hijo, ¿qué soy yo de Juan?**
 - a) Su abuelo
 - b) Su padre
 - c) Su hijo
 - d) Su nieto
 - e) Yo soy Juan
 - f) Su tío

- 3. En el grupo que sigue, indique la palabra que, por su significado, no refleja el mismo concepto**
 - a) Cola
 - b) Tamiz
 - c) Clip
 - d) Clavo
 - e) Cuerda

- 4. Tomás, Pedro, Jaime, Susana y Julia realizaron el test. Julia obtuvo mayor puntuación que Tomás, Jaime puntuó más bajo que Pedro pero más alto que Susana, y Pedro logró menos puntos que Tomás. ¿Quién obtuvo la puntuación más alta?**
 - a) Tomás
 - b) Pedro
 - c) Jaime
 - d) Susana
 - e) Julia

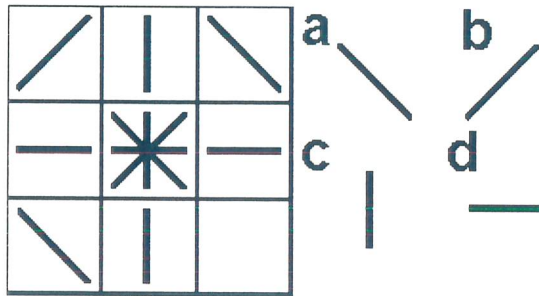
- 5. PERA es a MANZANA como PATATA es a:**
 - a) Plátano
 - b) Rábano
 - c) Fresa
 - d) Melocotón
 - e) Lechuga

6. Montaña es a tierra como remolino es a:

- a) Fluido
- b) Mojado
- c) Mar
- d) Cielo
- e) Lluvia

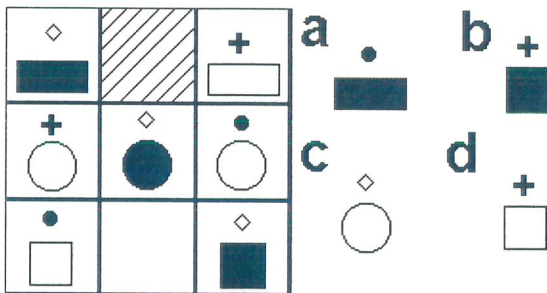
RAZONAMIENTO ABSTRACTO

7. Rellenar la casilla vacía a la izquierda con la figura más lógica (a b c d) de la derecha.



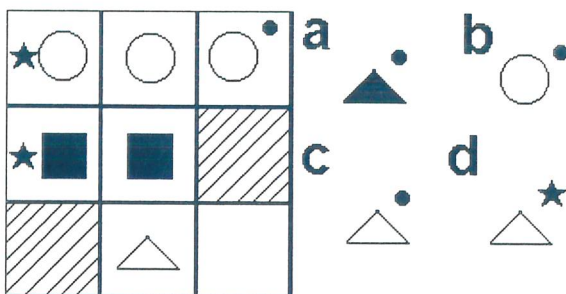
- a b c d

8. Rellenar la casilla vacía a la izquierda con la figura más lógica (a b c d) de la derecha.



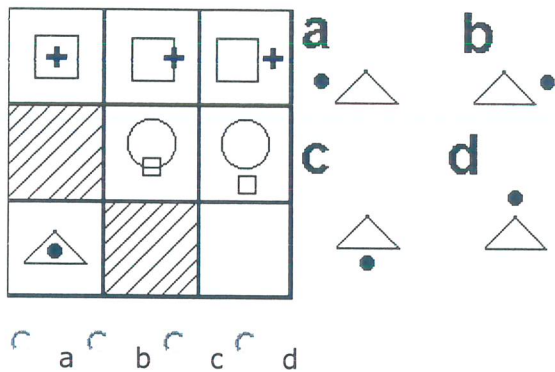
- a b c d

9. Rellenar la casilla vacía a la izquierda con la figura más lógica (a b c d) de la derecha.

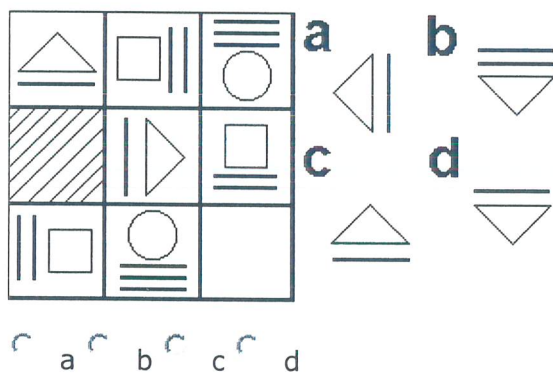


- a b c d

10. Rellenar la casilla vacía a la izquierda con la figura más lógica (a b c d) de la derecha.



11. Rellenar la casilla vacía a la izquierda con la figura más lógica (a b c d) de la derecha.



RAZONAMIENTO LOGICO

12. ¿Si me encuentro en una maratón y en plena carrera mi persona le gana al segundo, en qué posición llego?

- a) El primero.
- b) El segundo.
- c) El tercero
- d) El cuarto.

13. ¿Cuántas veces es más rápida la manilla del minutero que la de las horas en un reloj?

- a) 6
- b) 12
- c) 24
- d) 60

- 14. Si el precio de un artículo es aumentado en un 10 por 100 y luego reducido en un 10 por 100, ¿qué sucede?**
- a) No se puede hacer
 - b) No varía
 - c) Es menor
 - d) Es mayor
- 15. ¿Qué es mayor medio metro cuadrado o la mitad de un metro cuadrado?**
- a) Son iguales
 - b) Medio metro cuadrado
 - c) La mitad de un metro cuadrado
- 16. Te levantas a las 9 para ir a trabajar y te vas a dormir a las 8, ¿Cuántas horas duermes?**
- a) 12
 - b) 13
 - c) 1
 - d) 8
- 17. Entrás en una habitación oscura, con unos fósforos en la mano y no hay electricidad, pero te encuentras una vela, una recarga de gas y una lámpara de petróleo. ¿Qué enciendes primero?**
- a) La lámpara.
 - b) La vela.
 - c) La recarga.
 - d) Un fósforo.
- 18. Un granjero tiene 17 vacas, todas mueren menos nueve, ¿Cuántas le quedan?**
- a) 8
 - b) 0
 - c) 9
 - d) 1
- 19. ¿Cuántos meses tienen 28 días durante un período de 8 años?**
- a) 2
 - b) 4
 - c) 48
 - d) 96
- 20. Un vigilante nocturno muere de día, ¿Tiene derecho a cobrar una pensión?**
- a) Si.
 - b) NO.

21. ¿Cuántos animales de cada especie metió Moisés en su arca?

- a) 1
- b) 2
- c) 0
- d) 3

22. Cada uno de tres hermanos tiene una hermana ¿cuántos suman todos?

- a) 3
- b) 4
- c) 9
- d) 6

23. ¿De qué manera haría usted el 19 para que quitándole uno, le quedaran 20?


- a) No se puede
- b) Con palitos
- c) Con números Romanos
- d) Con números chinos

24. ¿Cuántos números 9 hay del 1 al 100?

- a) 3
- b) 1
- c) 4
- d) 5

RAZONAMIENTO ESPACIAL

25. Seleccione, de entre las imágenes recortadas, la que se ajusta al hueco recortado de la figura:



a)



b)




c)



d)



26. ¿Cuántas veces la figura de la izquierda taparía los huecos de la figura de la derecha?



- a) 4
- b) 5
- c) 6
- d) 7


27. ¿Cuántas veces la figura de la izquierda taparía los huecos de la figura de la derecha?



- a) 8
- b) 7
- c) 6
- d) 5

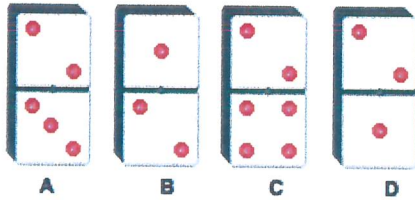
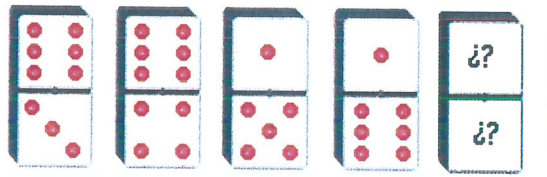
RAZONAMIENTO NUMÉRICO

28. Elija la respuesta correcta en la siguiente relación de series de ficha dominó



- a
- b
- c
- d

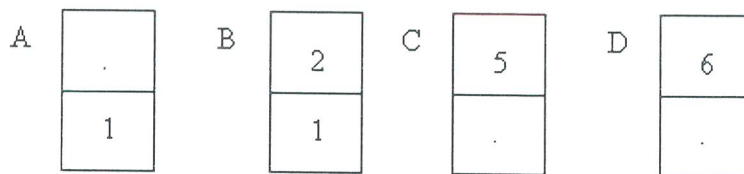
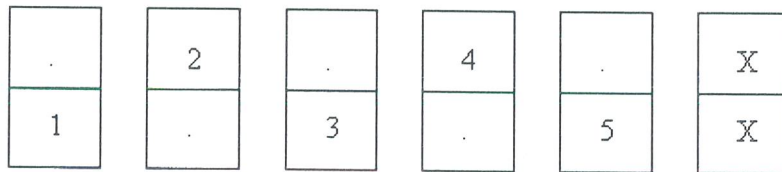
29. Elija la respuesta correcta en la siguiente relación de series de ficha dominó



a b c d

30. Cada recuadro representa una ficha de dominó, en cada mitad de las fichas los valores varían de 0 a 6.

Elija la respuesta correcta en función de lo que habría en la ficha de dominó marcada con X:



a b c d

SOLUCIONES PSICOTECNICO

1. E
2. C
3. B
4. E
5. B
6. C
7. B
8. D
9. C
- 10.A
- 11.D
- 12.B
- 13.B
- 14.C
- 15.C
- 16.C
- 17.D
- 18.C
- 19.D
- 20.B
- 21.C
- 22.B
- 23.C
- 24.B
- 25.B
- 26.C
- 27.B
- 28.A
- 29.D
- 30.D